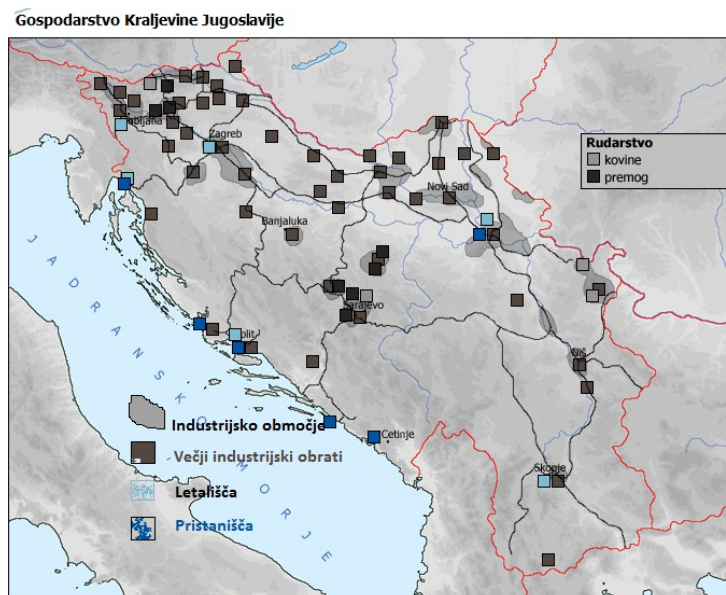


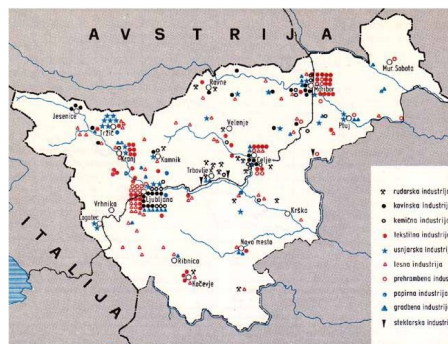
SLOVENCİ MED SVETOVNIMA VOJNAMA - - značilnosti gospodarskega razvoja - str. 122-124



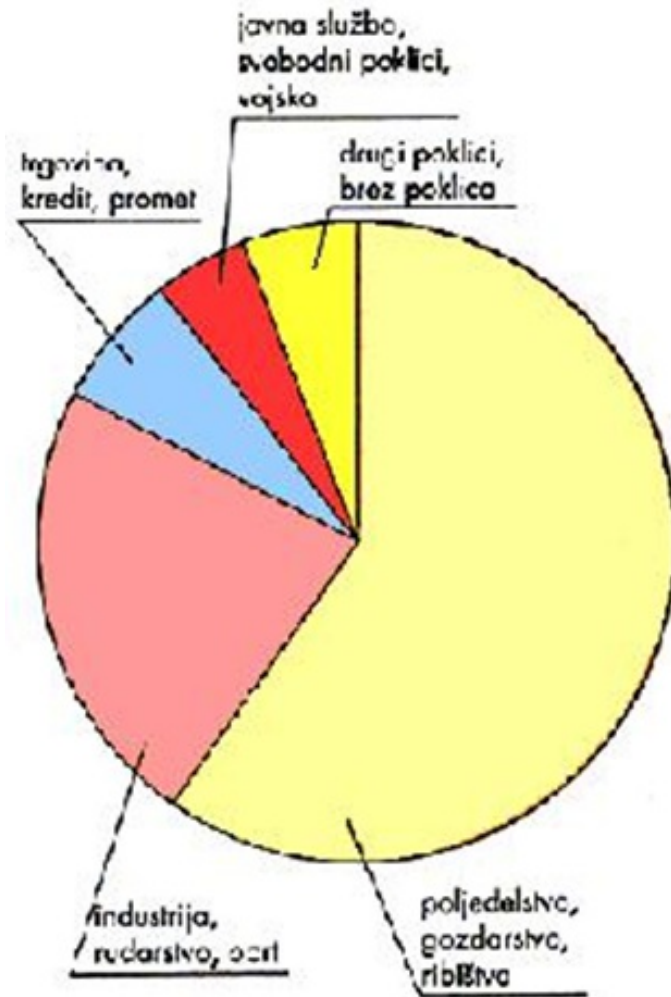
Primerjaj značilnosti gospodarske razvitosti posameznih predelov Kraljevine Jugoslavije.

S pomočjo Vir - 1 (učb. str. 122) in spodnjega zemljevida ugotovi, katera gospodarska dejavnost prevladuje v Dravski banovini.

Poizkusi to razmestitev industrije, ki jo kaže zemljevid tudi smiselno razložiti.



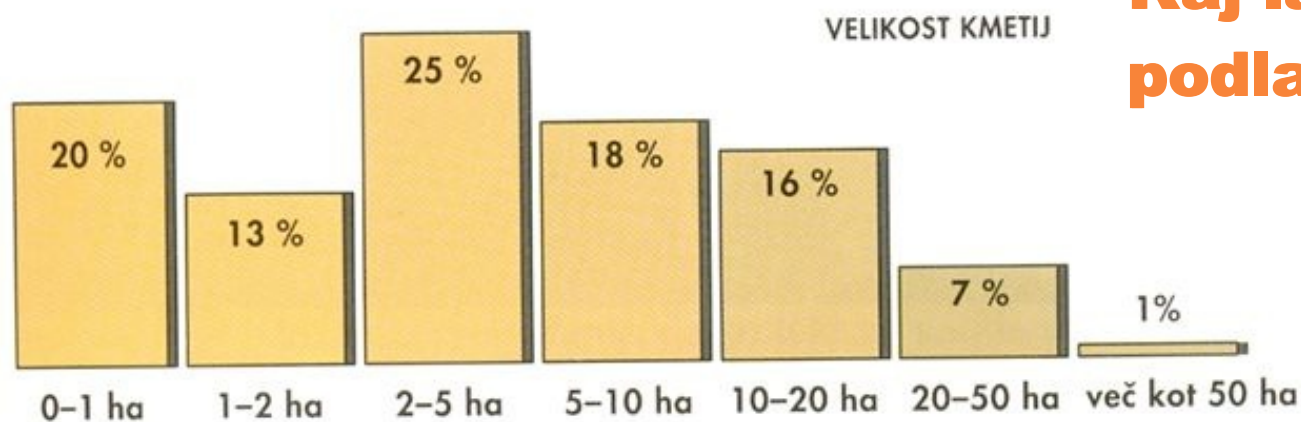
Poklici in zaposlitvena sestava prebivalstva v Dravski banovini



Vrni se na prejšnji zemljevid in sklepaj o gospodarski razvosti in zaposlitveni sestavi prebivalstva Bele krajine.

Kmetijstvo

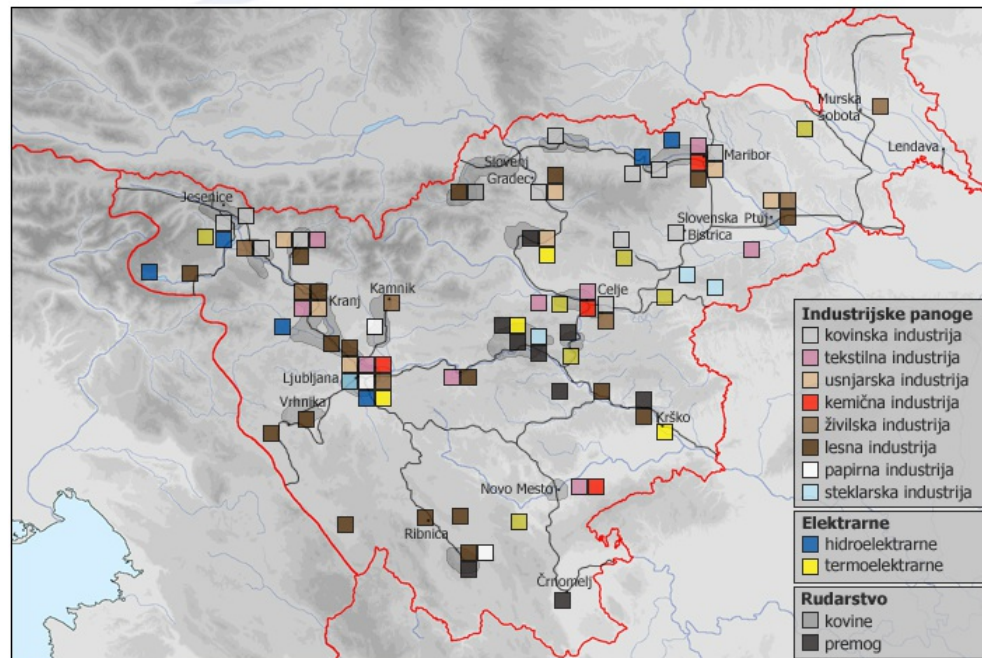
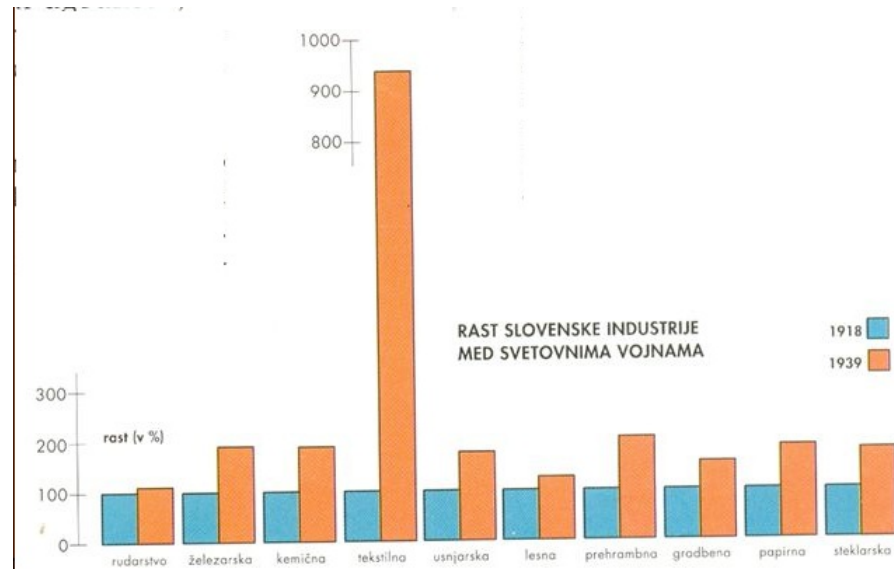
Več kot dve tretjini kmetov ni imelo dovolj zemlje, da bi preživel družino. Zato so se morali zadolževati. Odplačevanje dolgov pa je postalo ob izbruhu velike gospodarske krize nemogoče. Za to obdobje je značilno množično odhajanje s podeželja v mesta in na tuje. Kmetje so iskali zaposlitev v industriji, ki pa tudi še ni bila sposobna sprejeti odvečne delovne sile s podeželja. Vlaganja v razvoj industrije bi ta problem rešila, vendar pa za to ni bilo dovolj kapitala ali pa je bil v rokah tujcev.



Kaj lahko sklepaš na podlagi grafikona?

**Na kašen način so poskušali kmetje izboljšati svoj položaj?
Glej učbenik str. 123**

INDUSTRIJA



S pomočjo zemljevidov in grafikonov primerjaj gospodarsko razvitost slovenskega dela kraljevine z ostalimi predeli.