


Pozor, najprej se vpiši v spletno učilnico za vsak predmet posebej. Vpisano vas je manj kot na prste ene roke! Nekateri ste se oglasili, da se ne morete vpisati. Problem je običajno v tem, da se pride do napake pri vpisu gesla oz. uporabniškega imena. Zato uporabniško ime in geslo najprej prepisi v urejevalnik besedila (npr. wordov dokument) preveri velike in male črke in nato kopiraj na ustrezno mesto pri prijavi. Težav ne bi smelo biti, saj tako kaže pri učencih 9. razreda, ki so se vsi uspešni vpisali.

Danes boš spoznaval nekatere naravnogeografske in družbeno geografske značilnosti Jugovzhodne in Južne Azije (učb. 129-131 in str.134).

To območje je v večji meri pod vplivom monsunskih vetrov, in ti odločilno vplivajo na življenjske razmere v tem delu Azije, zato si za začetek ogledaj kratek video.



Pot do posnetka že poznaš:  
Zavijki: Geografija 7/Azija/

Preberi besedilo v učbeniku na strani 131 in reši vajo 55.



V Jugovzhodni Aziji, se predvsem na otokih pojavlja tudi **ekvatorialno podnebje**. V učbeniku na strani 115 poišči klimogram Singapurja in ga primerjaj s klimogramom

Kalkute, ki predstavlja monsunsko podnebje. Katero bistveno razliko opaziš?

## 7 MONSUNSKO PODNEBJE

### OBMOČJE

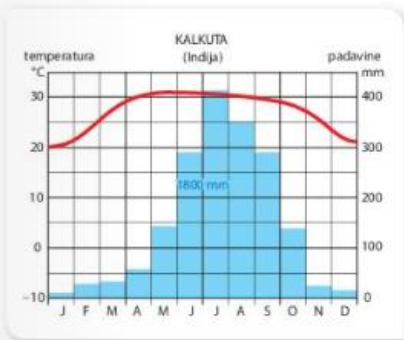
Jug, jugovzhod in vzhod celine

### TEMPERATURE IN PADAVINE

Visoke temperature, menjavanje sušne in deževne dobe

### RASTLINSTVO

Kjer je dovolj padavin, raste monsunski listnati gozd, ki v času sušne dobe odvrže liste. V notranjosti, kjer je manj padavin, raste savana. Savana je travnata pokrajina z redkimi drevesi.



## 8 EKVATORIALNO PODNEBJE

### OBMOČJE

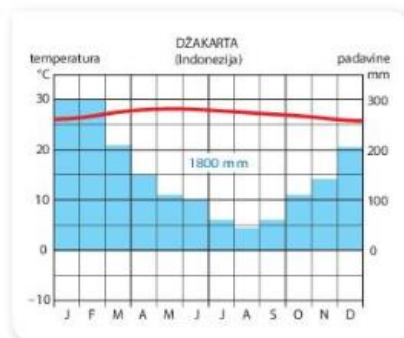
Obale Dekanskega in Indokitajskega polotoka, Indonezijsko in Filipinsko otočje

### TEMPERATURE IN PADAVINE

Celoletne visoke temperature, veliko padavin preko celega leta, velika vlažnost

### RASTLINSTVO

Tropski deževni gozdovi, ki so vse leto zeleni. Krošnje dreves so razporejene različno visoko, zaradi česar svetloba težko prodre do tal in podrasti skorajda ni, med drevesi so ovijalke. Ob morju rastejo mangrove.



Poglejmo malo bolj natančno, katere dele Azije štejeemo, k Jugovzhodni Aziji in kako delimo Južno Azijo.

### Oglej si in pojasni

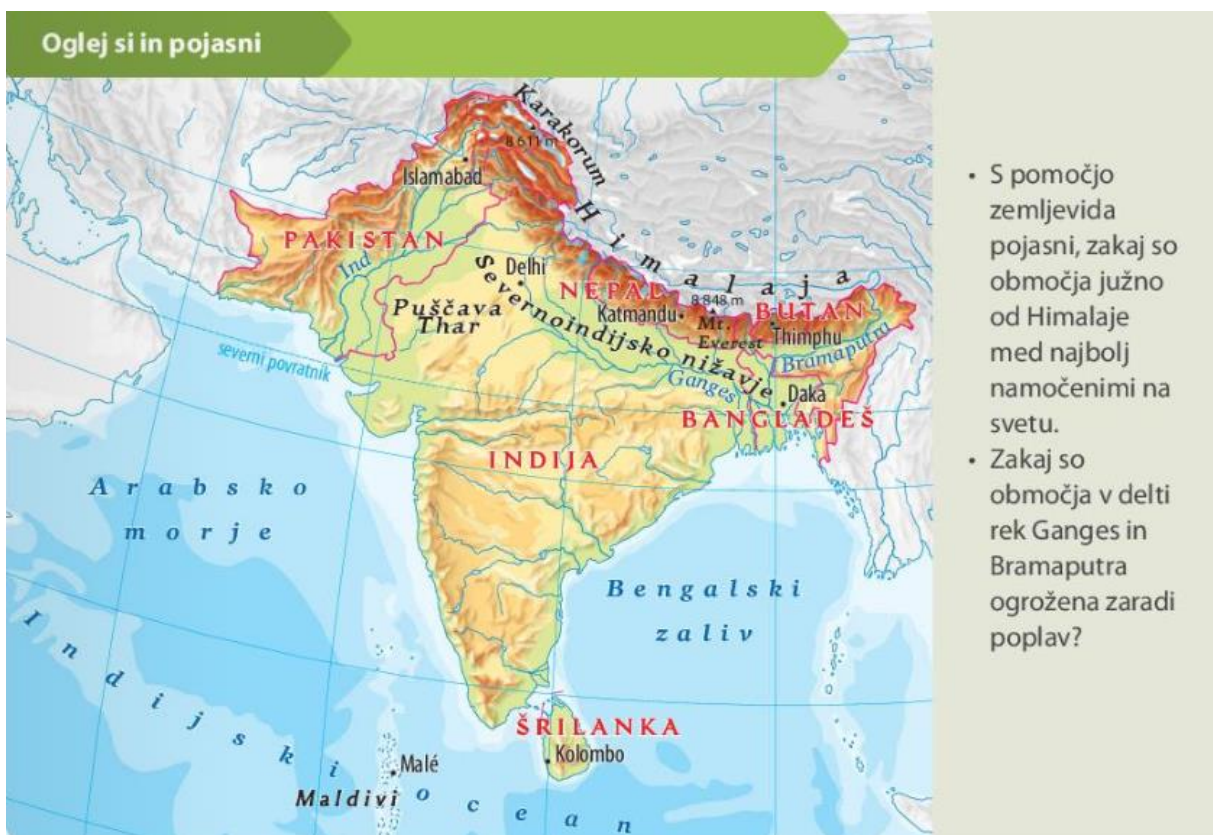
- Naštej države Jugovzhodne Azije.
- Katere države ležijo na celini in katere na otokih?



Mimogrede, morda dobiš kakšno idejo za igro spomina, ki jo ustvarjaš pri DKE?

Preberi besedilo v učbeniku na straneh 129 in 130, nato si oglej zgornji in spodnji zemljevid ↑↓ in reši vajo 54.

Še namig: Da boš lažje odgovoril na vprašanja ob spodnjem zemljevidu si oglej sliko v učbeniku na strani 130 in preberi besedilo!

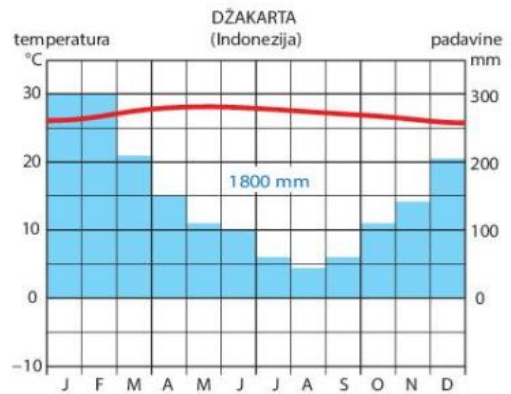
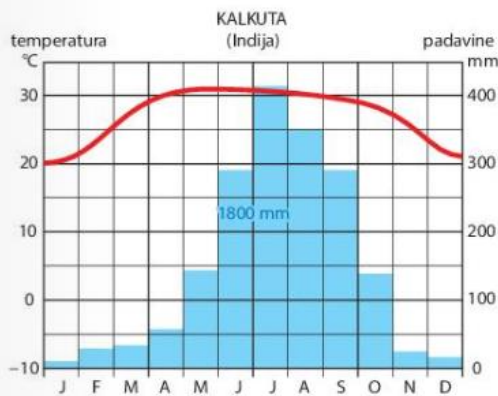




Še kratko utrjevanje znanja in dodatno vprašanje: »Na katerem otoku leži Džakarta?«

Jugovzhodna Azija ima monsunsko in ekvatorialno podnebje. Oglej si klimograma obeh podnebij in reši nalogo.

- A) Poimenuj podnebji.
- B) Opiši osnovne značilnosti podnebij.



A) \_\_\_\_\_

\_\_\_\_\_

B) \_\_\_\_\_

\_\_\_\_\_